

Контрольная работа к урокам 1-11

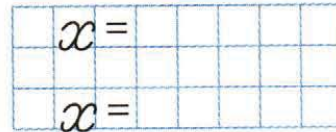
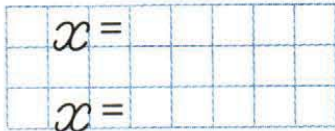

- 1 Начерти два отрезка: один длиной 12 см, а другой – в 3 раза короче. На сколько сантиметров первый отрезок длиннее второго?



- 2 Заполни схему и реши уравнения:

$$4 \cdot x = 32$$


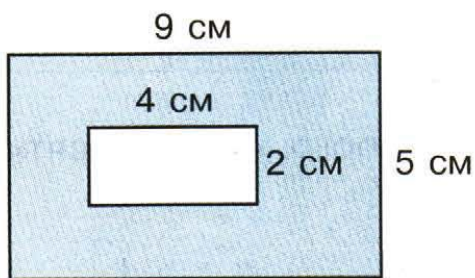
$$x : 5 = 6$$




- 3 Заполни таблицу:

Делимое	40		27	16		15	12		45
Делитель		8		4	3		2	7	
Частное	5	4	3		7	3		4	5

- 4 Найди площадь закрашенной фигуры:



Хорошая работа два века живёт!





5 Составь программу действий и вычисли:

а) $7 \cdot 5 + 3 \cdot 8 : 6 - 12 : 3 \cdot 5 =$

б) $60 - 40 : 5 \cdot 2 : 4 \cdot 8 =$

в) $25 : 5 \cdot 0 + 14 : 2 \cdot 4 - 28 =$

6 В школьном саду посадили 50 тюльпанов. Часть из них посадили вдоль аллеи, а остальные посадили на 3 клумбах по 8 тюльпанов на каждой. Сколько тюльпанов посадили вдоль аллеи?



7[★] Запиши все двузначные числа, в которых число десятков в 3 раза больше числа единиц.
